

达标测试卷

| 题号 | 一 | 二 | 三 | 四 | 五 | 六 | 七 | 总分 |
|----|---|---|---|---|---|---|---|----|
| 得分 | | | | | | | | |

一、知识库。(24分)

1. 好方法我会用。(12分)

| | | | |
|--|--|--|--|
| $\begin{cases} 8+6=14 \\ 14-8=6 \\ 14-6=8 \end{cases}$ | $\begin{cases} 7+5=12 \\ 12-7=5 \\ 12-5=7 \end{cases}$ | $\begin{cases} 6+5=11 \\ 11-6=5 \\ 11-5=6 \end{cases}$ | $\begin{cases} 4+9=13 \\ 13-4=9 \\ 13-9=4 \end{cases}$ |
|--|--|--|--|

2. 圈出合适的数。(4分)

(1) 相减得数是8的两个数是(5) 12 6 (13)。

(2) 相减得数是9的两个数是(17) (14) 9 (5)。

3. 下面每组算式的得数相同,在括号里填上合适的数。(6分)

| | | |
|----------|----------|----------|
| $(12)-5$ | $7+(2)$ | $12-(4)$ |
| $(16)-9$ | $(14)-5$ | $(14)-6$ |
| $13-6$ | $11-2$ | $15-7$ |

4. 动物园里有14只小象,每只小象吃1根香蕉,已经准备了8根香蕉,还差(6)根。(2分)

二、小动物过河。(16分)



$15-6=9$

$12-4=8$

$13-5=8$

$18-9=9$

$13-7=6$

$17-8=9$

$14-7=7$

$15-9=6$



$16-4=12$

$13-8=5$

$12-6=6$

$15-8=7$



$12-3=9$

$16-7=9$

$11-7=4$

$16-8=8$

三、大象运木头。(6分)

$5+6-3=8$

$14-9-2=3$

$16-7+8=17$

$9+6-8=7$

$13-4-6=3$

$7+4-5=6$



四、小蝴蝶会停在哪朵花上?(9分)



$13-6 < 15-6$

$14-8 = 15-9$

$13-7 > 12-8$

$14-9 < 12-5$

$12-8 > 11-9$

$18-9 > 15-7$



$16-7 > 13-8$

$11-7 < 13-4$

$14-8 < 13-6$

五、看图列式计算。(12分)

1.



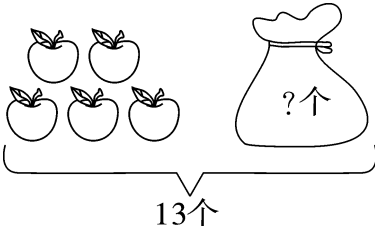
$7 + 5 = 12$

$12 - 5 = 7$

$5 + 7 = 12$

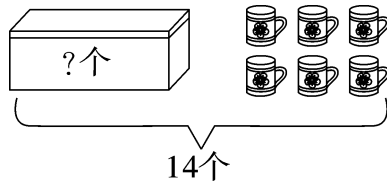
$12 - 7 = 5$

2.







$13 - 5 = 8 \text{ (个)}$

3.



$14 - 6 = 8 \text{ (个)}$

六、算一算,填一填。(8 分)

| | | | | |
|----|---|---|---|---|
| |  |  |  |  |
| 原有 | 12 支 | 18 把 | (16) 辆 | 15 件 |
| 卖出 | 5 支 | (9) 把 | 9 辆 | (8) 件 |
| 还剩 | (7) 支 | 9 把 | 7 辆 | 7 件 |

七、解决问题。(25 分)

1. (5 分)

我一共拔了15根胡萝卜，
分给你7根。



你还剩几根?



$$\boxed{15} - \boxed{7} = \boxed{8} \text{ (根)}$$

2. 参加射击的有 11 只小动物。



(1) 还有几只小动物没到场? (4 分)


$$\boxed{11} - \boxed{5} = \boxed{6} \text{ (只)}$$

(2) 下面是小猪和小兔两轮的射击成绩,请填写下面表格。

(2 分)

| | | | |
|----|-----|---------|----------|
| | 第一轮 | 第二轮 | 合计 |
| 小猪 | 8 分 | 5 分 | (13) 分 |
| 小兔 | 4 分 | (7) 分 | 11 分 |

3. 快乐的小动物。(8 分)



(1) 小动物每人吃 1 个草莓,大蛋糕上还剩几个草莓?

【答案】 $12-5=7$ (个)

口答:大蛋糕上还剩 7 个草莓。

(2) 你还能提出什么问题? 自己提一提并解答。

【答案】气球还剩几个?

$11-6=5$ (个)

口答:气球还剩 5 个。(答案不唯一)

4. (创新题)上体育课时,13 人排成一横排,小丽的右边有 9 名同学,左边有几名同学呢?(6 分)

【答案】 $13-9-1=3$ (名)

口答:左边有 3 名同学。